

अनुक्रमांक .....

नाम .....

932

825(CC)

2022

सामाजिक विज्ञान

( Hindi and English Versions )

समय : तीन घण्टे 15 मिनट । पूर्णांक : 70

नोट : प्रारम्भ के 15 मिनट परीक्षार्थियों को प्रश्नपत्र पढ़ने के लिए निर्धारित हैं ।

**Note :** First 15 minutes are allotted for the candidates to read the question paper.

निर्देश : i) यह प्रश्नपत्र दो खण्डों क एवं ख में विभाजित है। प्रत्येक खण्ड के सभी प्रश्न एक साथ हल करना आवश्यक है। प्रत्येक खण्ड का उत्तर नए पृष्ठ से प्रारम्भ किया जाय।

ii) प्रत्येक प्रश्न के लिए निर्धारित अंक उसके सम्मुख अंकित हैं।

825(CC)

2

- iii) प्रश्नपत्र में चार प्रकार के प्रश्न हैं — बहुविकल्पीय, अति लघु उत्तरीय, लघु उत्तरीय व दीर्घ उत्तरीय, जिनके सम्बन्ध में निर्देश उनके आरम्भ में दिये गये हैं।
- iv) क तथा ख खण्डों हेतु दिये गये मानचित्रों को उत्तर-पुस्तिका में मजबूती के साथ संलग्न करना आवश्यक है।
- v) दृष्टिबाधित परीक्षार्थियों के लिये मानचित्र कार्य के स्थान पर अलग से खण्ड - क में प्रश्न संख्या 14 तथा खण्ड - ख में प्रश्न संख्या 28 के उत्तर लिखने के लिये दिये गये हैं।

**Instructions :**

- i) This question paper is divided into *two* Parts A & B. Attempt all the questions of each part together at one place. Each part should be attempted on a new page.
- ii) Marks allotted for each question are mentioned against it.
- iii) This question paper contains *four* types of questions — Multiple-choice type, Very Short Answer type, Short Answer type and Long Answer type. Instructions have been given at the beginning of each type of question.

- iv) Attach firmly the supplied maps for Parts - A & B to your answer-book.
- v) For vision-impaired examinees Question No. 14 in Part-A and Question No. 28 in Part-B have been given separately for writing answers in lieu of map work.

खण्ड - क

**PART - A**

( बहुविकल्पीय प्रश्न )

**( Multiple Choice Type Questions )**

**निर्देश :** निम्नलिखित विकल्पों में से सही उत्तर चुनकर अपनी उत्तर-पुस्तिका में लिखिए :

**Instruction :** Choose the correct answer from the given alternatives and write in your answer-book :

1. ज्यूसेपे मेत्सिनी द्वारा स्थापित गुप्त संगठन था  
क) यंग इटली                      ख) यंग फ्रांस  
ग) यंग प्रशा                      घ) यंग जर्मनी।                      1
1. The secret organization founded by Giuseppe Mazzini was  
a) Young Italy  
b) Young France  
c) Young Prussia  
d) Young Germany.                      1

2. फ्रांस की क्रांति हुई थी  
क) 1770 में                      ख) 1789 में  
ग) 1795 में                      घ) 1815 में।                      1
2. French Revolution took place in  
a) 1770                      b) 1789  
c) 1795                      d) 1815.                      1
3. 'हिंद स्वराज' पुस्तक के लेखक हैं  
क) सरदार पटेल                      ख) बाल गंगाधर तिलक  
ग) महात्मा गाँधी                      घ) सुभाष चन्द्र बोस।                      1
3. Who is the author of the book 'Hind Swaraj' ?  
a) Sardar Patel  
b) Bal Gangadhar Tilak  
c) Mahatma Gandhi  
d) Subhash Chandra Bose.                      1
4. प्रथम विश्वयुद्ध प्रारंभ हुआ था  
क) 1910 में                      ख) 1911 में  
ग) 1914 में                      घ) 1920 में।                      1
4. First World War started in  
a) 1910                      b) 1911  
c) 1914                      d) 1920.                      1
5. समवर्ती सूची से संबंधित विषय नहीं है /  
क) शिक्षा                      ख) वन  
ग) उत्तराधिकार                      घ) विदेशी मामले।                      1
5. Which subject does not belong to concurrent list ?  
a) Education                      b) Forest  
c) Succession                      d) Foreign Affairs.                      1

6. संविधान के अनुसार भारत की राजभाषा है  
क) हिन्दी ख) उर्दू  
ग) संस्कृत घ) अंग्रेजी। 1
6. According to constitution the official language of India is  
a) Hindi b) Urdu  
c) Sanskrit d) English. 1

( अति लघु उत्तरीय प्रश्न )

( Very Short Answer Type Questions )

7. 'ब्रेटन वुड्स ट्विन' (ब्रेटन वुड्स की जुड़वाँ सन्तान) किन्हें कहा जाता है ? 1 + 1
7. Who are called 'Bretton Woods Twins' ? 1 + 1
8. स्वतन्त्र और निष्पक्ष चुनाव का क्या अर्थ है ? 1 + 1
8. What is meant by free and fair election ? 1 + 1
9. लोकतंत्र के समक्ष क्या चुनौतियाँ हैं ? 2
9. What are the challenges against democracy ? 2

( लघु उत्तरीय प्रश्न )

( Short Answer Type Questions )

10. भारतीय अर्थव्यवस्था पर महामंदी के किन्हीं तीन प्रभावों का उल्लेख कीजिए। 1 + 1 + 1

अथवा

ब्रेटन वुड्स समझौते का क्या अर्थ है ? इसका क्या उद्देश्य था ? 1½ + 1½

10. Mention any three effects of the Great Depression on the Indian Economy.

1 + 1 + 1

OR

What is meant by the Bretton Woods Agreement ? What was its purpose ? 1½ + 1½

11. लोकतंत्र किस प्रकार उत्तरदायी, जिम्मेवार और वैध सरकार का गठन करता है ? 1 + 1 + 1

अथवा

लोकतंत्र किन स्थितियों में सामाजिक विविधता को संभालता है ? 3

11. How does democracy organise an accountable, responsive and legitimate government ? 1 + 1 + 1

OR

What are the conditions under which democracies accommodate social diversities ? 3

( दीर्घ उत्तरीय प्रश्न )

( Long Answer Type Questions )

12. भारत में राष्ट्रवाद के उदय के प्रमुख कारण क्या थे ? 6

अथवा

भारत छोड़ो आन्दोलन पर एक संक्षिप्त निबंध लिखिए। 6

12. What were the main causes of rising of nationalism in India? 6

OR

Write a short essay on Quit India movement. 6

13. संघवाद का क्या अर्थ है? 6

अथवा

'भारत एक धर्म निरपेक्ष देश है।' किन्हीं तीन प्रावधानों के आधार पर स्पष्ट कीजिए। 2 + 2 + 2

13. What is meant by Federalism? 6

OR

'India is a secular country.' Explain on the basis of any three provisions. 2 + 2 + 2

( मानचित्र सम्बन्धी प्रश्न )

( Map Work )

निर्देश : निम्नलिखित स्थानों को भारत के दिये गये रेखा

मानचित्र में ⊙ चिह्न द्वारा नाम सहित दर्शाइए। सही

नाम तथा सही अंकन के लिये  $\frac{1}{2}$ ,  $\frac{1}{2}$  अंक निर्धारित हैं :

Instruction : In the given outline map of India locate the following places by the symbol ⊙ with names. For correct mention of name and location  $\frac{1}{2}$ ,  $\frac{1}{2}$  marks have been allotted.

14. i) वह स्थान जहाँ जलियाँवाला बाग हत्याकाण्ड हुआ।  $\frac{1}{2} + \frac{1}{2}$
- ii) वह स्थान जहाँ दिसम्बर, 1920 में कांग्रेस का अधिवेशन हुआ।  $\frac{1}{2} + \frac{1}{2}$
- iii) वह स्थान जहाँ सूती मिल श्रमिकों का सत्याग्रह चलाया गया।  $\frac{1}{2} + \frac{1}{2}$
- iv) वह स्थान जहाँ 1927 में कांग्रेस का अधिवेशन हुआ।  $\frac{1}{2} + \frac{1}{2}$
- v) वह स्थान जहाँ से सविनय अवज्ञा आंदोलन प्रारंभ हुआ।  $\frac{1}{2} + \frac{1}{2}$
14. i) The place where the Jallianwala Bagh Massacre took place.  $\frac{1}{2} + \frac{1}{2}$
- ii) The place where Congress session was held in December 1920.  $\frac{1}{2} + \frac{1}{2}$
- iii) The place where Cotton Mill Workers' Satyagraha was organized.  $\frac{1}{2} + \frac{1}{2}$
- iv) The place where Congress session was held in 1927.  $\frac{1}{2} + \frac{1}{2}$
- v) The place from where Civil Disobedience movement started.  $\frac{1}{2} + \frac{1}{2}$

( केवल इच्छित्वाधित परीक्षार्थियों के लिये  
मानचित्र कार्य के विकल्प के रूप में )  
( Only for visually-impaired examinees in  
lieu of Map work )

निर्देश : निम्न प्रश्नों के उत्तर अपनी उत्तर-पुस्तिका में लिखिए।  
मानचित्र का प्रयोग न कीजिए।

Instruction : Write the answers of the following  
questions in your answer-book. Do  
not use map.

14. i) जालियाँवाला बाग हत्याकाण्ड कहाँ हुआ ? 1  
ii) दिसम्बर, 1920 में कांग्रेस का अधिवेशन कहाँ  
हुआ ? 1  
iii) सूती मिल श्रमिकों का सत्याग्रह कहाँ चलाया गया ? 1  
iv) 1927 में कांग्रेस का अधिवेशन कहाँ हुआ ? 1  
v) सविनय अवज्ञा आन्दोलन कहाँ से प्रारंभ हुआ ? 1
14. i) Where did the Jallianwala Bagh  
Massacre take place ? 1  
ii) Where did the Congress session held in  
December 1920 ? 1  
iii) Where was Cotton Mill Workers'  
Satyagraha started ? 1  
iv) Where did the Congress session held in  
1927 ? 1  
v) From where did Civil Disobedience  
movement start ? 1

खण्ड - ख  
PART - B

( बहुविकल्पीय प्रश्न )

( Multiple Choice Type Questions )

निर्देश : निम्नलिखित विकल्पों में से सही उत्तर चुनकर अपनी  
उत्तर-पुस्तिका में लिखिए :

Instruction : Choose the correct answer from the  
following options and write in your  
answer book.

15. निम्नलिखित में से कौन सा खनिज आधारभूत है ?  
क) मैंगनीज                      ख) अम्रक  
ग) लौह-अयस्क                  घ) ताँबा। 1
15. Which of the following is a basic  
mineral ?  
a) Manganese                      b) Mica  
c) Iron ore                          d) Copper. 1
16. निम्नलिखित में से कौन-सा ऊर्जा का परम्परागत स्रोत है ?  
क) सौर ऊर्जा                      ख) कोयला  
ग) पवन ऊर्जा                      घ) ज्वारीय ऊर्जा। 1
16. Which of the following is the conventional  
source of energy ?  
a) Solar energy                      b) Coal  
c) Wind energy                      d) Tidal energy. 1

17. विश्व व्यापार संगठन की स्थापना निम्नलिखित में से किस वर्ष में हुई ?
- क) 1986 में                      ख) 1995 में  
ग) 2001 में                      घ) 2004 में।                      1
17. In which of the following years World Trade Organisation was established ?
- a) 1986                              b) 1995  
c) 2001                              d) 2004.                              1
18. भारत में वायु परिवहन का राष्ट्रीयकरण कब किया गया ?
- क) 1950                              ख) 1953  
ग) 1960                              घ) 1998.                              1
18. When was Indian Airways nationalized ?
- a) 1950                              b) 1953  
c) 1960                              d) 1998.                              1
19. निम्नलिखित में से इस्पात बनाने में किस खनिज का प्रयोग किया जाता है ?
- क) अभ्रक                              ख) मैंगनीज  
ग) ताँबा                              घ) बाक्साइट।                              1
19. Which of the following minerals is used in manufacturing steel ?
- a) Mica                              b) Manganese  
c) Copper                              d) Bauxite.                              1

20. निम्नलिखित में से भारत प्रमुख रूप से किसका आयात करता है ?
- क) चाय                              ख) खाद्यान्न  
ग) जूट का सामान                      घ) कच्चा पेट्रोलियम।                      1
20. Which of the following is the main import of India ?
- a) Tea  
b) Foodgrains  
c) Jute goods  
d) Crude petroleum.                      1
- ( अति लघु उत्तरीय प्रश्न )
- ( Very Short Answer Type Questions )
21. सीमान्त (सीमा) सड़कें क्या हैं ? इनका निर्माण किसके अधीन है ?                              1 + 1
21. What are Border roads ? Who controls their construction ?                              1 + 1
22. वैश्वीकरण से आप क्या समझते हैं ?                              2
22. What do you understand by globalization ?                              2
23. उपभोक्ता के किन्हीं दो अधिकारों का वर्णन कीजिए।                              1 + 1
23. Mention any two rights of consumer.                              1 + 1

( लघु उत्तरीय प्रश्न )

( Short Answer Type Questions )

24. भू-क्षरण रोकने के कोई तीन उपाय सुझाइए। 1 + 1 + 1

अथवा

संसाधन नियोजन की आवश्यकता क्यों पड़ती है ? इस हेतु कोई दो उपाय सुझाइए। 1 + 2

24. Suggest any three measures to check soil erosion. 1 + 1 + 1

OR

Why is resource planning necessary ? Suggest any two measures for it. 1 + 2

25. राष्ट्रीय आय वृद्धि हेतु कोई तीन उपाय सुझाइए। 1 + 1 + 1

अथवा

शिशु मृत्यु दर रोकने के कोई तीन उपाय सुझाइए।

1 + 1 + 1

25. Suggest any three measures for an increase in the national income. 1 + 1 + 1

OR

Suggest any three measures to check infant mortality rate. 1 + 1 + 1

( दीर्घ उत्तरीय प्रश्न )

( Long Answer Type Questions )

26. भारत में भूमि उपयोग के प्रमुख प्रारूपों की विवेचना कीजिए। 6

अथवा

चावल के उत्पादन हेतु उपयुक्त भौगोलिक दशाओं की विवेचना कीजिए एवं भारत में प्रमुख उत्पादन क्षेत्रों पर प्रकाश डालिए। 3 + 3

26. Discuss the main land use patterns in India. 6

OR

Discuss the suitable geographical conditions for the cultivation of rice and throw light on main producing areas in India. 3 + 3

27. प्राथमिक एवं द्वितीयक क्षेत्रों की विशेषताओं की विवेचना कीजिए। 3 + 3

अथवा

असंगठित क्षेत्रक के श्रमिकों की समस्याओं की विवेचना कीजिए। 6

27. Discuss the characteristics of primary and secondary sectors. 3 + 3

OR











Discuss the problems of the labourers of the unorganized sector. 6

( मानचित्र कार्य )

( Map Work )

निर्देश : दिये गये भारत के मानचित्र में निर्माणांकन का दर्शाइए :

Instruction : Show the following on the given map of India.

28. i) राजस्थान की राजधानी  चिह्न द्वारा नाम सहित।  $\frac{1}{2} + \frac{1}{2}$
- ii) चाय उत्पादन का प्रमुख क्षेत्र  चिह्न द्वारा।  $\frac{1}{2} + \frac{1}{2}$
- iii) कोई परमाणु ऊर्जा केन्द्र  चिह्न द्वारा नाम सहित।  $\frac{1}{2} + \frac{1}{2}$
- iv) ताप्ती नदी  चिह्न द्वारा नाम सहित।  $\frac{1}{2} + \frac{1}{2}$
- v) हीराकुड बाँध  चिह्न द्वारा नाम सहित।  $\frac{1}{2} + \frac{1}{2}$
28. i) The capital of Rajasthan by sign  with name.  $\frac{1}{2} + \frac{1}{2}$
- ii) Main tea producing area by sign .  $\frac{1}{2} + \frac{1}{2}$
- iii) Any atomic energy centre by sign  with name.  $\frac{1}{2} + \frac{1}{2}$
- iv) The river Tapti by sign  with name.  $\frac{1}{2} + \frac{1}{2}$
- v) Hirakud dam by sign  with name.  $\frac{1}{2} + \frac{1}{2}$

( केवल दृष्टिबाधित परीक्षार्थियों के लिये  
मानचित्र कार्य के विकल्प के रूप में )

( Only for vision-impaired examinees in lieu of map work )

निर्देश : निम्नलिखित प्रश्नों के उत्तर अपनी उत्तर-पुस्तिका में लिखिए। मानचित्र का प्रयोग न कीजिए।

Instruction : Write answers of the following questions in your answer-book. Do not use the map.

28. i) राजस्थान की राजधानी का नाम लिखिए। 1
- ii) किसी एक प्रमुख चाय उत्पादक क्षेत्र का नाम लिखिए। 1
- iii) किसी परमाणु ऊर्जा केन्द्र का नाम लिखिए। 1
- iv) ताप्ती नदी किस समुद्र में गिरती है ? 1
- v) हीराकुड बाँध किस नदी पर स्थित है ? 1
28. i) Write the name of the capital of Rajasthan. 1
- ii) Write the name of any main tea producing area. 1
- iii) Write the name of any atomic energy centre. 1
- iv) In which sea does the river Tapti fall ? 1
- v) On which river is Hirakud dam located ? 1

825(CC) - 4,40,000